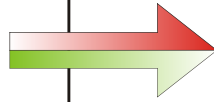
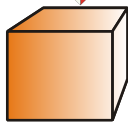




3-D-Körper haben einen Schatten

(Das Licht kommt senkrecht von oben!)

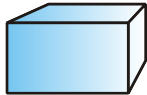


Der _____ hat

als Schatten: _____

_____ hat

als Schatten: _____



_____ hat

als Schatten: _____

Das _____ hat

als Schatten: _____



Das _____ hat

als Schatten: _____

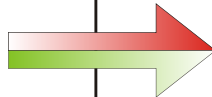

Der _____ hat

als Schatten: _____



Der _____ hat

als Schatten: _____

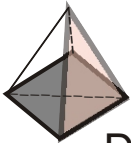


Die _____ hat

als Schatten: _____

Die _____ hat

als Schatten: _____



Die _____ hat

als Schatten: _____

Der _____ hat

als Schatten: _____



Der _____ hat

als Schatten: _____

1. Schreibe zu jedem Körper (jeder Figur) den Namen! 2. Male den Schatten und benenne die gemalte Form! 3. Welche Figuren haben nur einen Schatten? Warum?

Name: _____ Datum: _____ Kl. ____ Fach: _____